

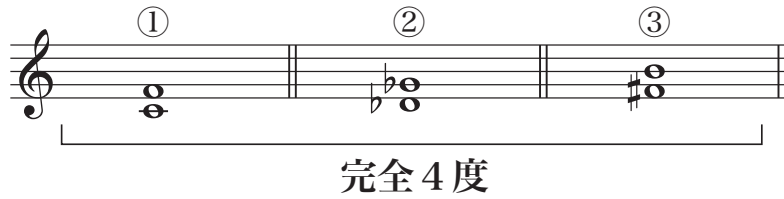
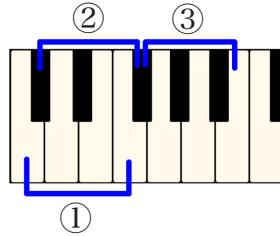


【楽典7 初級課題 音程 ③ 4度】

名前： _____

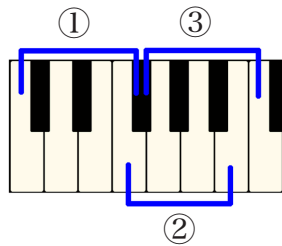
●下の図の通り、音と音の間に半音4つ分の音の隔たりをもつ4度を完全4度と呼びます。

【完全4度】


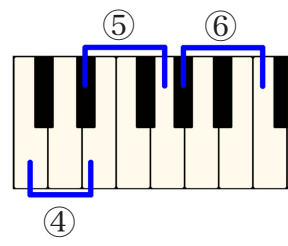


●完全4度よりもさらに半音分広くなった音の隔たりを増4度、半音狭くなった音の隔たり（見た目では長3度と同じ隔たりになります。）を減4度と呼びます。

【増4度】



【減4度】



練習問題 次の各音程を () に答えましょう。

a. b. c. d. e. f. g.

() () () () () () () ()

h. i. j. k. l. m. n.

() () () () () () () ()