

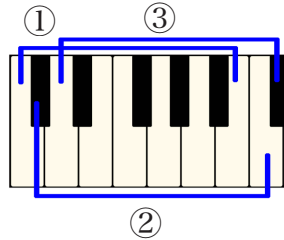
【楽典10 初級課題 音程⑤ 7度】

名前： _____

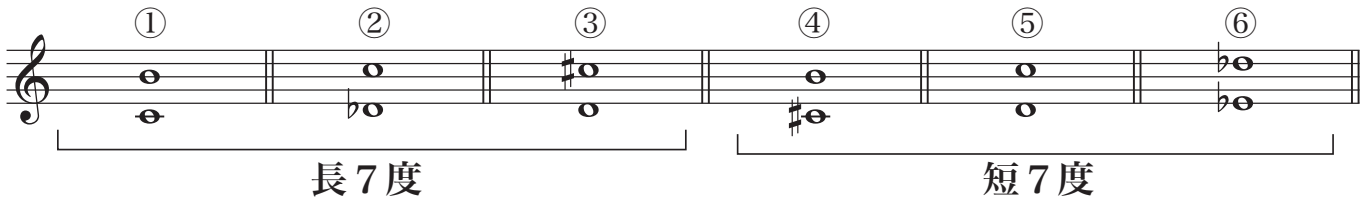
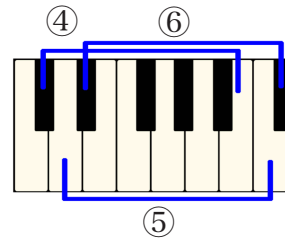


●下の図の通り、音と音の間に半音10つ分の音の隔たりをもつ7度を長7度と呼び、音と音の間に半音9つ分の音の隔たりをもつ3度を短7度と呼びます。

【長7度】

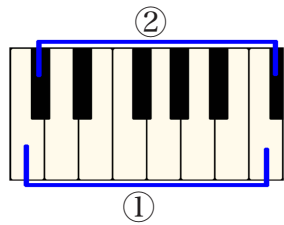


【短7度】

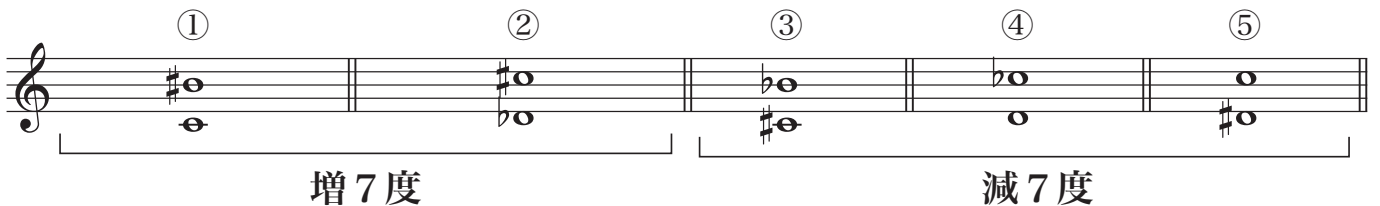
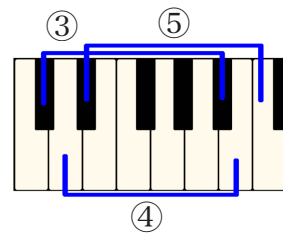


●長7度よりもさらに半音分広くなった音の隔たりを増7度、短7度よりもさらに半音狭くなった音の隔たり（見た目では長6度と同じ隔たりになります。）を減7度と呼びます。

【増7度】



【減7度】



練習問題 次の各音程を（ ）に答えてみましょう。

a. () () b. () () c. () () d. () () e. () () f. () () g. () ()

h. () () i. () () j. () () k. () () l. () () m. () () n. () ()